

Aplicações dos princípios aditivo e multiplicativo

Raquel de Souza Francisco Bravo

[e-mail: raquelbr.ic@gmail.com](mailto:raquelbr.ic@gmail.com)

18 de abril de 2017

Aplicações dos princípios aditivo e multiplicativo

Objetivo:

⇒ Obtenção de uma técnica de contagem para cada problema (de permutação, de arranjo, de combinação) a partir dos princípios aditivo e multiplicativo (isto é, sem a enumeração explícita dos seus elementos).

Aplicações dos princípios aditivo e multiplicativo

Importância:

- ➔ As permutações, os arranjos e as combinações aparecem na modelagem de problemas provenientes, principalmente, das seguintes áreas:
- ▬ probabilidades
 - ▬ teoria de grafos
 - ▬ análise de algoritmos

Aplicações dos princípios aditivo e multiplicativo

Importância:

➡ As permutações, os arranjos e as combinações aparecem na modelagem de problemas provenientes, principalmente, das seguintes áreas:

- ▬ probabilidades
- ▬ teoria de grafos
- ▬ análise de algoritmos

Exemplos:

- Algoritmos randômicos (probabilísticos)

Aplicações dos princípios aditivo e multiplicativo

Importância:

➡ As permutações, os arranjos e as combinações aparecem na modelagem de problemas provenientes, principalmente, das seguintes áreas:

- ▬ probabilidades
- ▬ teoria de grafos
- ▬ análise de algoritmos

Exemplos:

- Algoritmos randômicos (probabilísticos)
- Armazenamento de informações em banco de dados nos computadores

Aplicações dos princípios aditivo e multiplicativo

Importância:

➡ As permutações, os arranjos e as combinações aparecem na modelagem de problemas provenientes, principalmente, das seguintes áreas:

- ▬ probabilidades
- ▬ teoria de grafos
- ▬ análise de algoritmos

Exemplos:

- Algoritmos randômicos (probabilísticos)
- Armazenamento de informações em banco de dados nos computadores
- Análise do comportamento de um algoritmo através da contagem das suas operações.

Introdução

Exemplo 1:

- (a) Comprei três canetas de distintas cores: azul, verde e branca, para dar de presentes a três amigos, João, Rita e Luiza.

- (b) Comprei mais uma caneta, de cor preta, pois tinha esquecido do Gabriel.

Em cada caso, de quantas maneiras diferentes eu posso distribuí-las?

Permutações Simples e Circulares

Resolução:

(a)

João

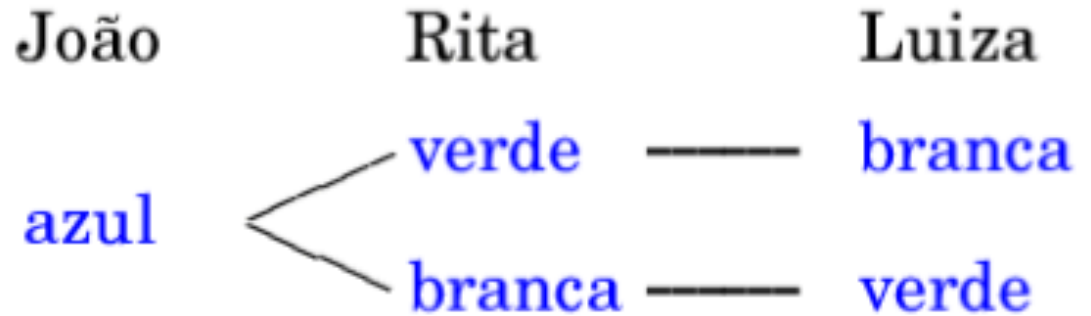
Rita

Luiza

Permutações Simples e Circulares

Resolução:

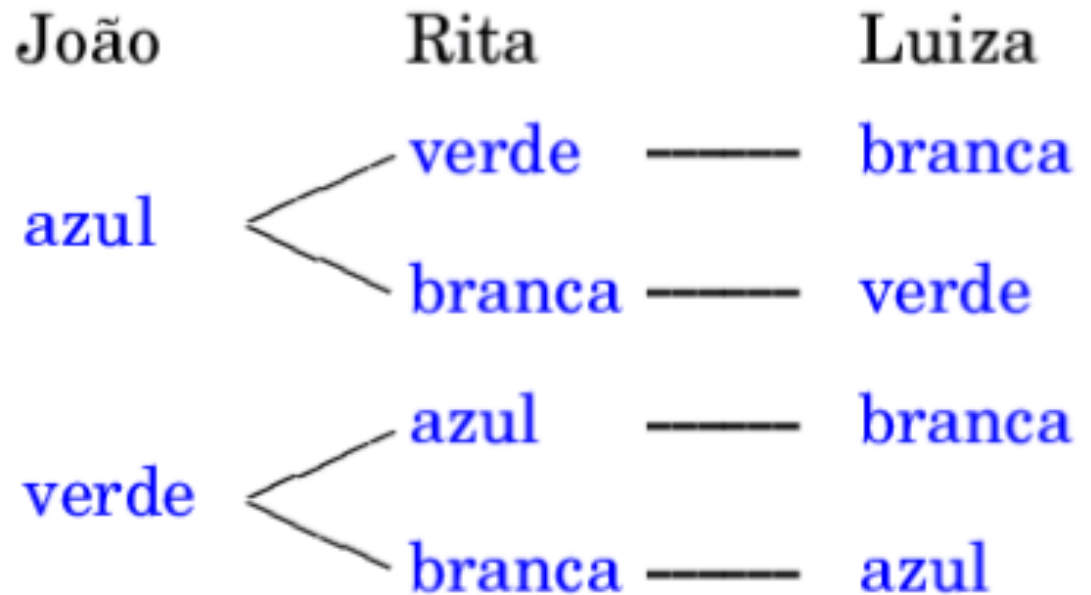
(a)



Permutações Simples e Circulares

Resolução:

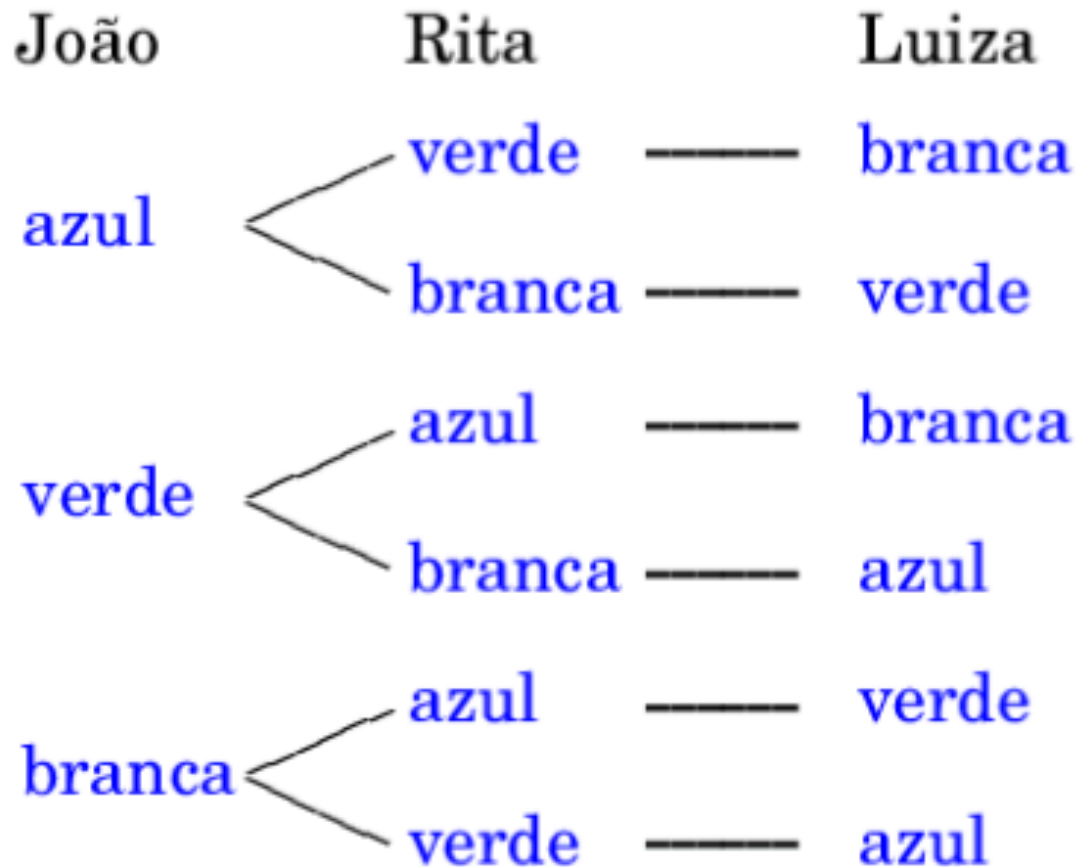
(a)



Permutações Simples e Circulares

Resolução:

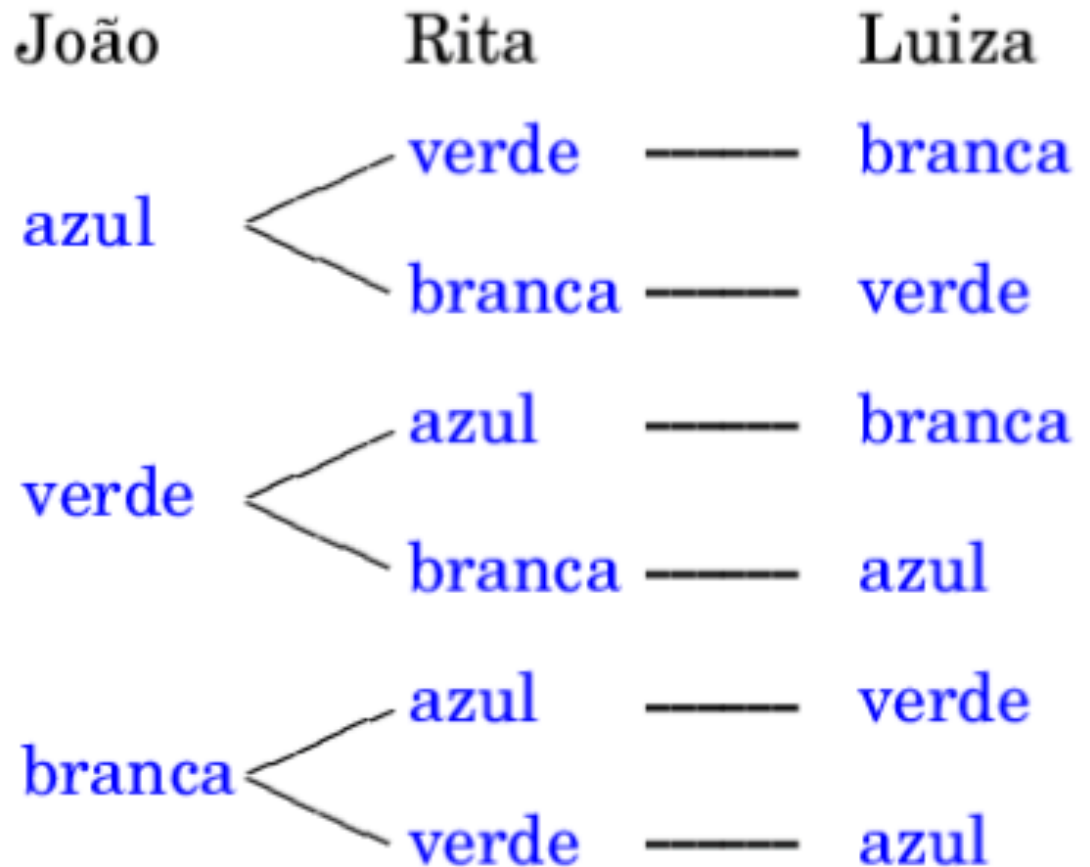
(a)



Permutações Simples e Circulares

Resolução:

(a)



Número de
possibilidades:

3

×

2

×

1

Permutações Simples e Circulares

(b)

João

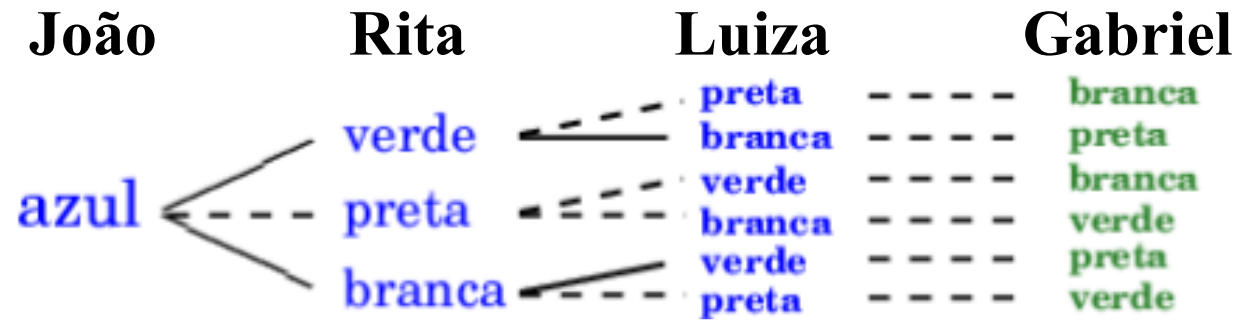
Rita

Luiza

Gabriel

Permutações Simples e Circulares

(b)



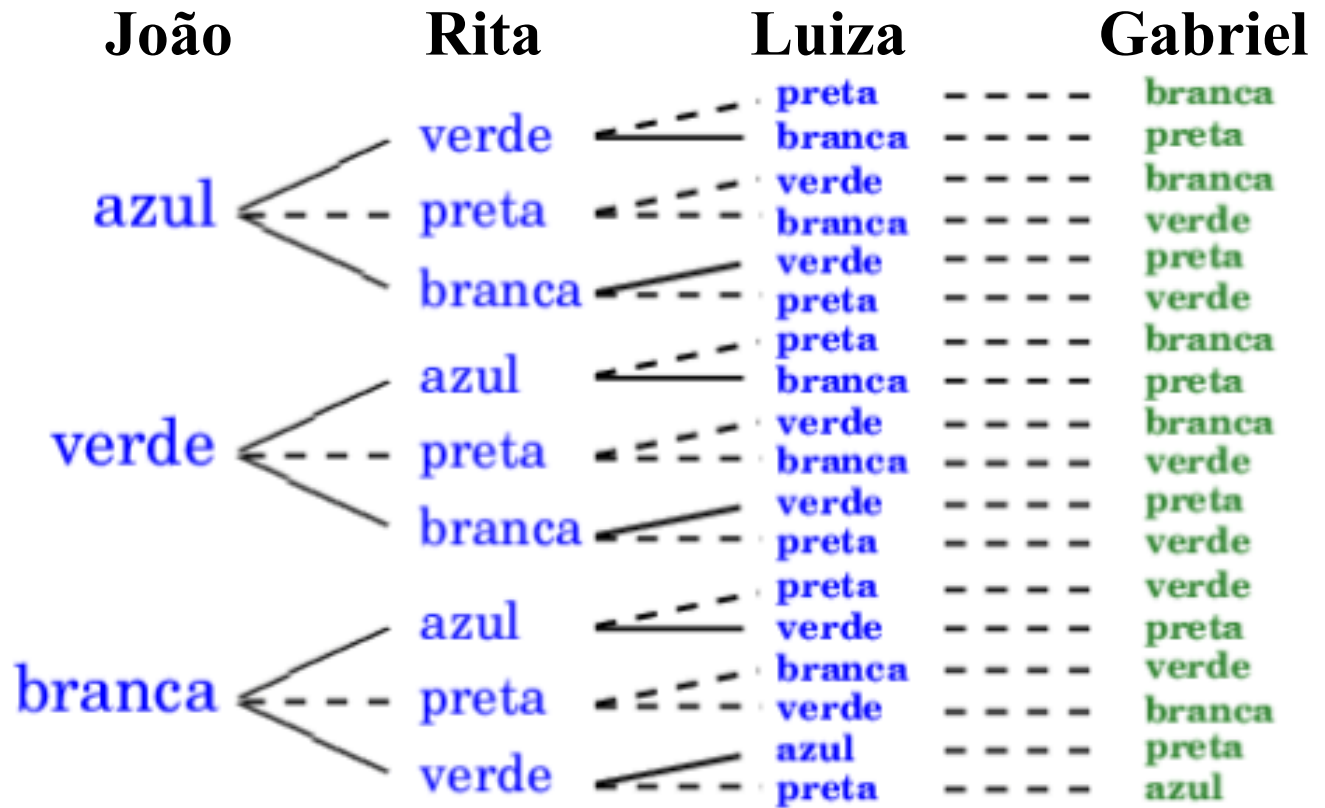
Permutações Simples e Circulares

(b)



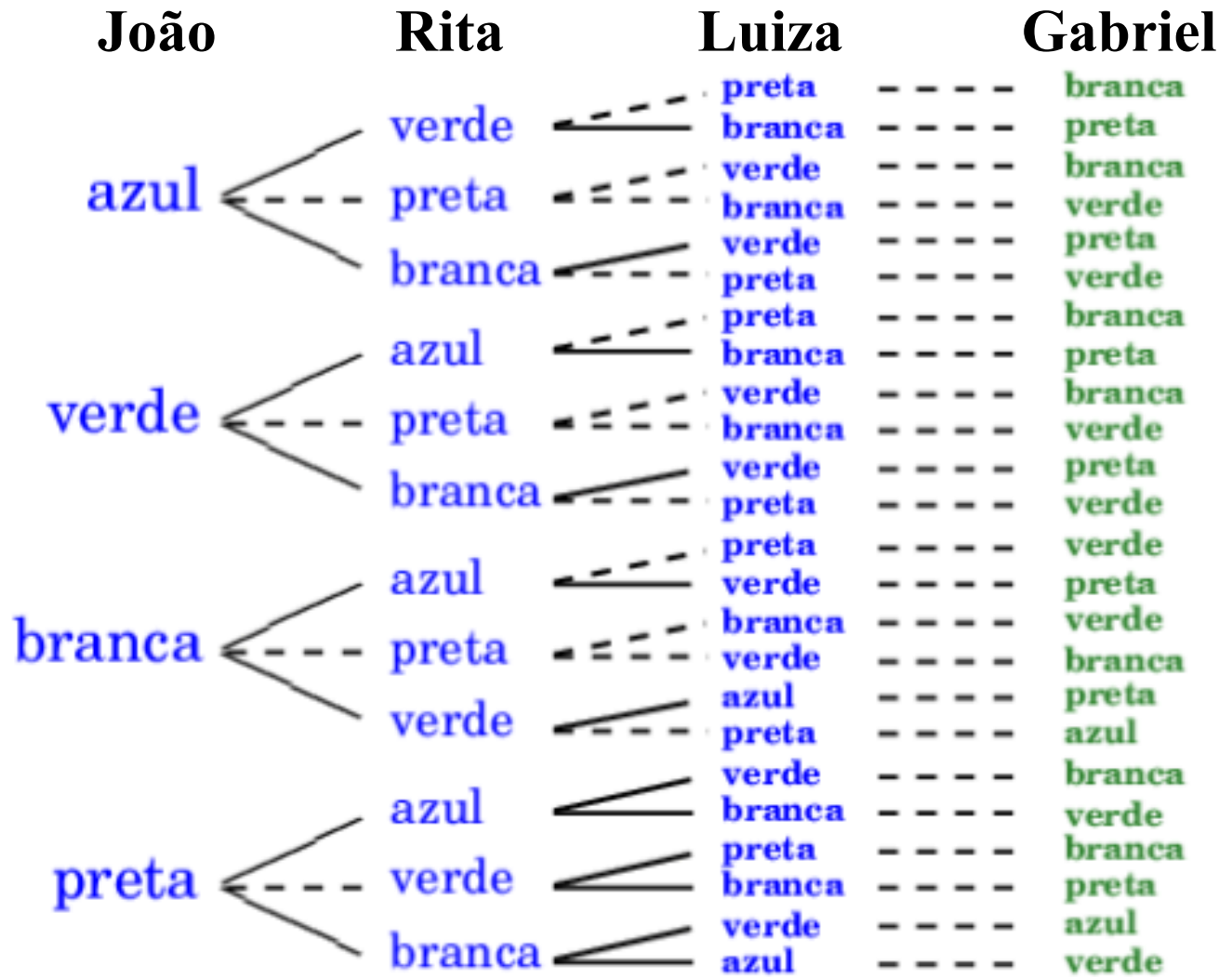
Permutações Simples e Circulares

(b)

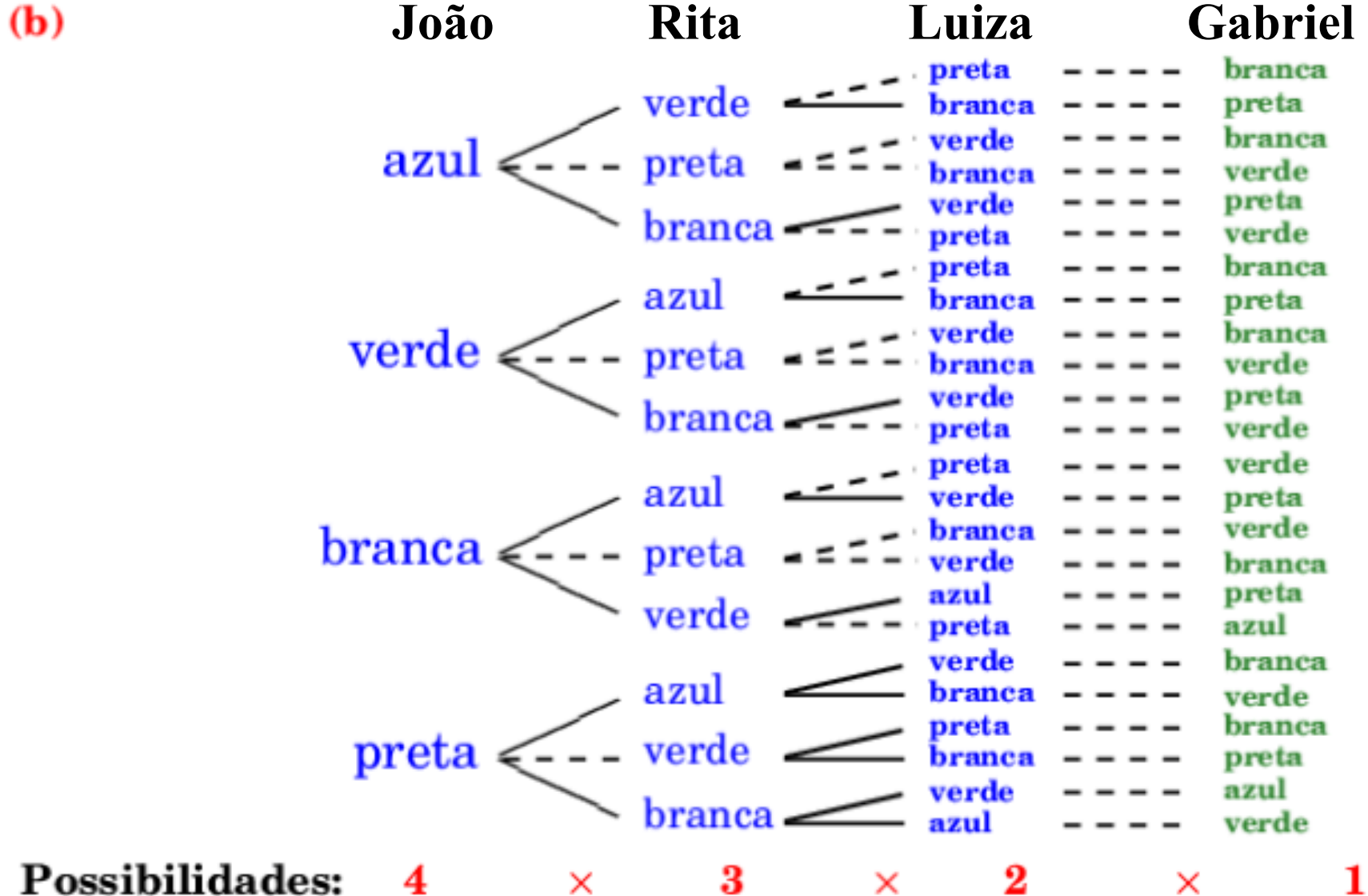


Permutações Simples e Circulares

(b)



Permutações Simples e Circulares



Permutações Simples e Circulares

Fatorial de um número:

⇒ Definição

O **fatorial** de um número natural n , denotado por $n!$ é o produto dos n primeiros números naturais:

$$n! := n(n - 1)(n - 2) \dots 1$$

Permutações Simples e Circulares

Fatorial de um número:

⇒ Definição

O **fatorial** de um número natural n , denotado por $n!$ é o produto dos n primeiros números naturais:

$$n! := n(n - 1)(n - 2) \dots 1$$

⇒ Ilustração

$$3! = 3 \times 2 \times 1$$

Permutações Simples e Circulares

Fatorial de um número:

⇒ Definição

O **fatorial** de um número natural n , denotado por $n!$ é o produto dos n primeiros números naturais:

$$n! := n(n - 1)(n - 2) \dots 1$$

⇒ Ilustração

$$3! = 3 \times 2 \times 1$$

$$4! = 4 \times 3 \times 2 \times 1$$

Permutações Simples e Circulares

Fatorial de um número:

⇒ Definição

O **fatorial** de um número natural n , denotado por $n!$ é o produto dos n primeiros números naturais:

$$n! := n(n - 1)(n - 2) \dots 1$$

⇒ Ilustração

$$3! = 3 \times 2 \times 1$$

$$4! = 4 \times 3 \times 2 \times 1$$

⇒ Convenção:

$$0! := 1$$

Permutações Simples e Circulares

Exemplo 2:

Quantos **números distintos** de 5 algarismos podem se formar com os dígitos 3, 5, 7, 8 e 9 ?

Permutações Simples e Circulares

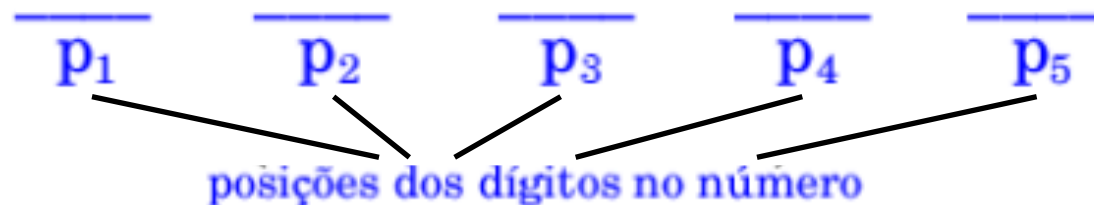
Exemplo 2:

Quantos **números distintos** de 5 algarismos podem se formar com os dígitos 3, 5, 7, 8 e 9 ?

Resolução:

3
5
7
8
9

Possibilidades:



Permutações Simples e Circulares

Exemplo 2:

Quantos **números distintos** de 5 algarismos podem se formar com os dígitos 3, 5, 7, 8 e 9 ?

Resolução:

3

5

7

8

9

Possibilidades:

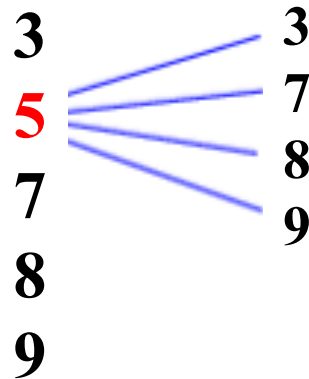


Permutações Simples e Circulares

Exemplo 2:

Quantos **números distintos** de 5 algarismos podem se formar com os dígitos 3, 5, 7, 8 e 9 ?

Resolução:



Possibilidades:

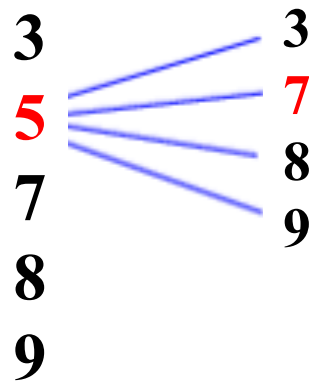


Permutações Simples e Circulares

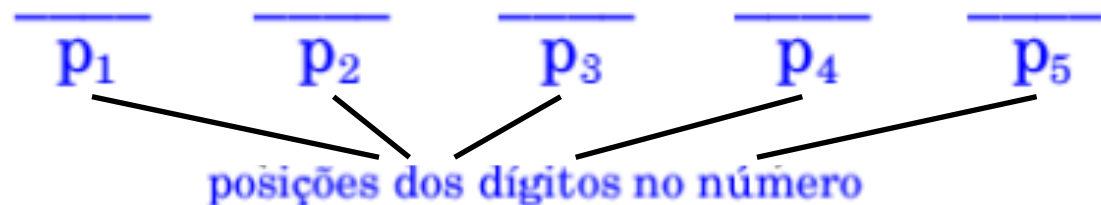
Exemplo 2:

Quantos **números distintos** de 5 algarismos podem se formar com os dígitos 3, 5, 7, 8 e 9 ?

Resolução:



Possibilidades:

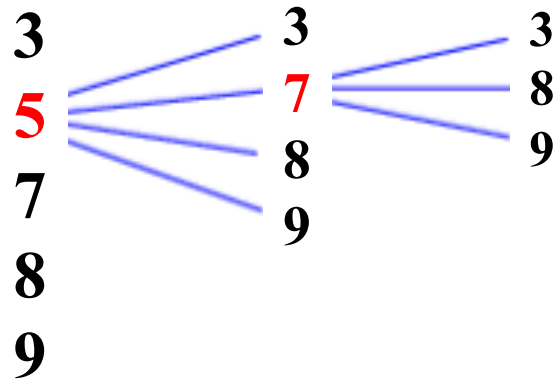


Permutações Simples e Circulares

Exemplo 2:

Quantos **números distintos** de 5 algarismos podem se formar com os dígitos 3, 5, 7, 8 e 9 ?

Resolução:



Possibilidades:

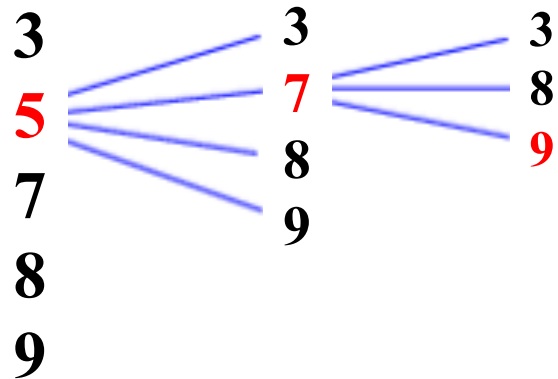


Permutações Simples e Circulares

Exemplo 2:

Quantos **números distintos** de 5 algarismos podem se formar com os dígitos 3, 5, 7, 8 e 9 ?

Resolução:



Possibilidades:

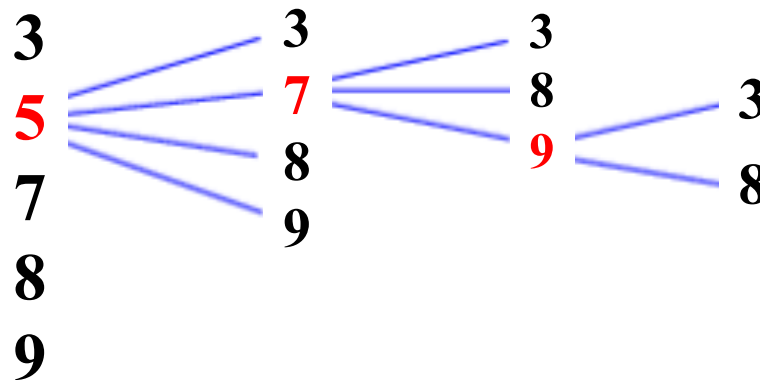


Permutações Simples e Circulares

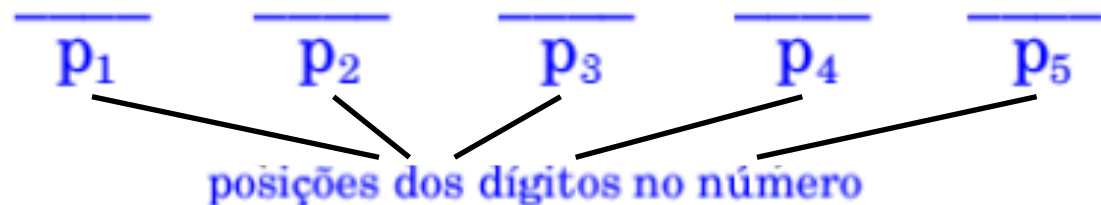
Exemplo 2:

Quantos **números distintos** de 5 algarismos podem se formar com os dígitos 3, 5, 7, 8 e 9 ?

Resolução:



Possibilidades:

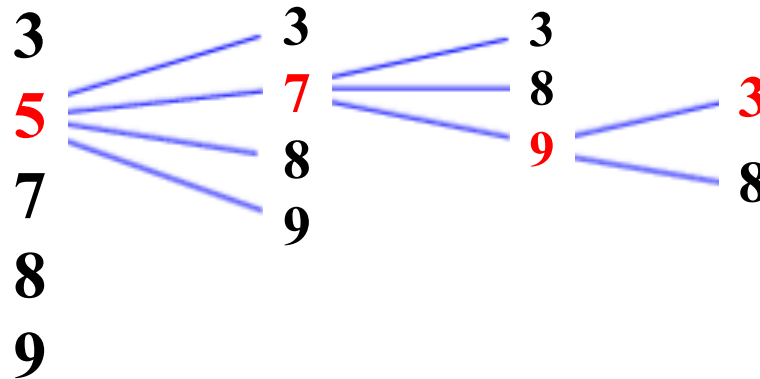


Permutações Simples e Circulares

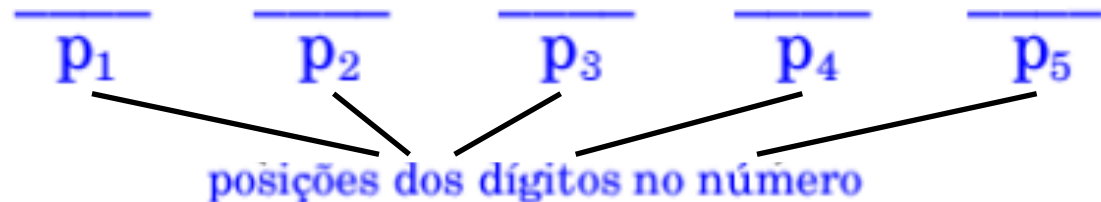
Exemplo 2:

Quantos **números distintos** de 5 algarismos podem se formar com os dígitos 3, 5, 7, 8 e 9 ?

Resolução:



Possibilidades:

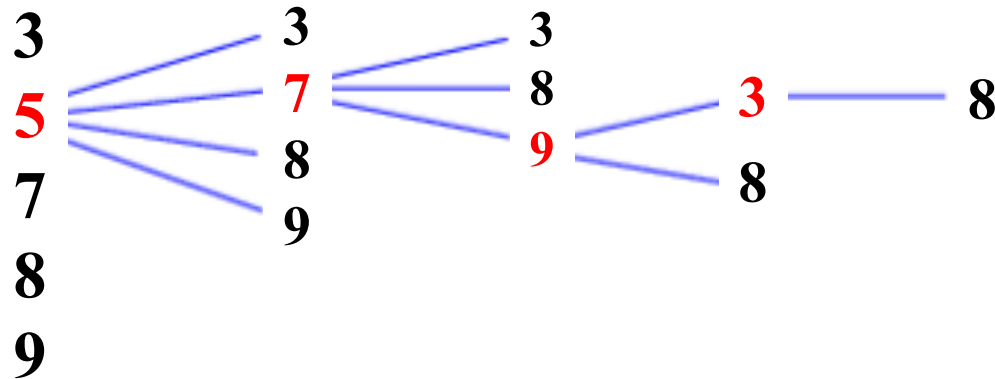


Permutações Simples e Circulares

Exemplo 2:

Quantos **números distintos** de 5 algarismos podem se formar com os dígitos 3, 5, 7, 8 e 9 ?

Resolução:



Possibilidades:

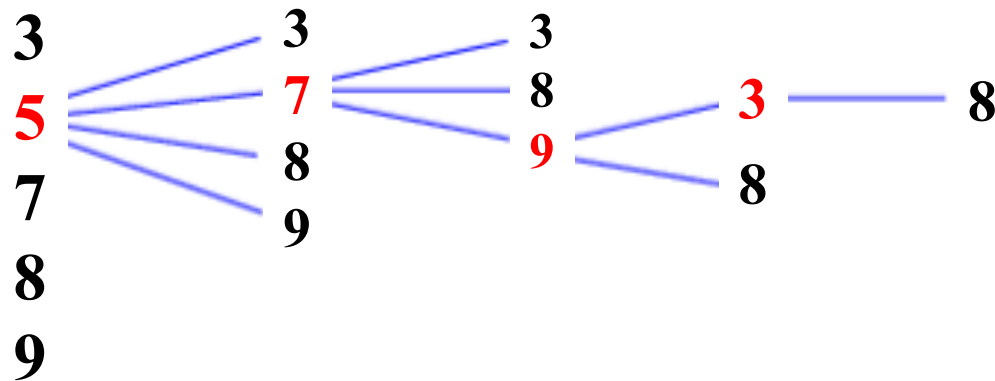


Permutações Simples e Circulares

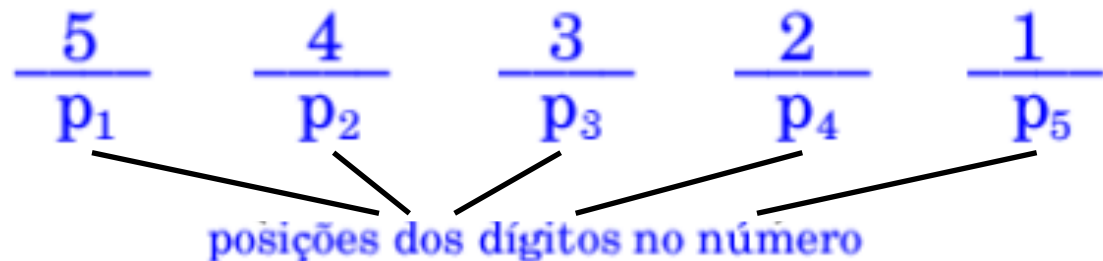
Exemplo 2:

Quantos **números distintos** de 5 algarismos podem se formar com os dígitos 3, 5, 7, 8 e 9 ?

Resolução:



Possibilidades:

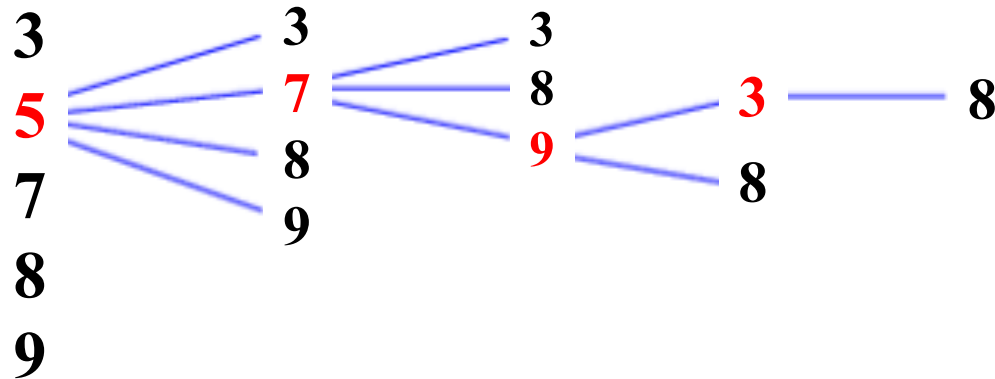


Permutações Simples e Circulares

Exemplo 2:

Quantos **números distintos** de 5 algarismos podem se formar com os dígitos 3, 5, 7, 8 e 9?

Resolução:



Possibilidades: $\frac{5}{p_1} \frac{4}{p_2} \frac{3}{p_3} \frac{2}{p_4} \frac{1}{p_5} = 5!$

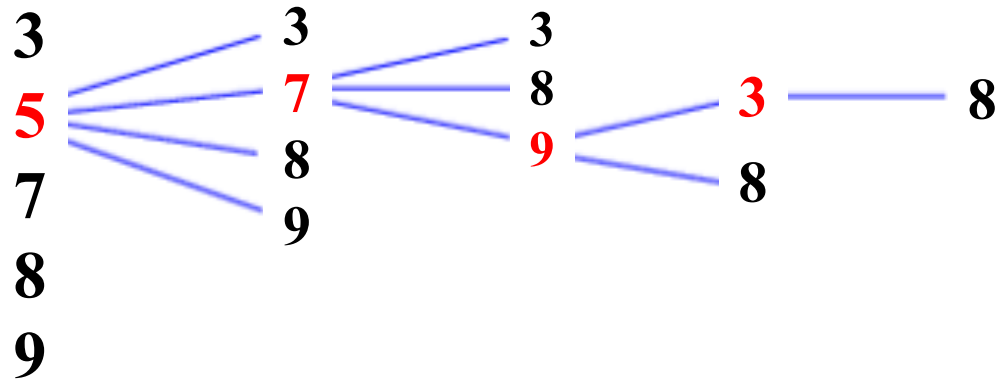
posições dos dígitos no número

Permutações Simples e Circulares

Exemplo 2:

Quantos **números distintos** de 5 algarismos podem se formar com os dígitos 3, 5, 7, 8 e 9 ?

Resolução:



Possibilidades: $\frac{5}{p_1} \frac{4}{p_2} \frac{3}{p_3} \frac{2}{p_4} \frac{1}{p_5} = 5!$

posições dos dígitos no número

Resposta: Podem se formar $5! = 120$ números diferentes de 5 algarismos.

Permutações Simples e Circulares

⇒ Características dos exemplos:

- Os elementos considerados são diferentes

Permutações Simples e Circulares

⇒ Características dos exemplos:

- Os elementos considerados são diferentes
- Cada troca de posição (de ordem) dos elementos corresponde a uma possibilidade

Permutações Simples e Circulares

➔ Características dos exemplos:

- Os elementos considerados são diferentes
- Cada troca de posição (de ordem) dos elementos corresponde a uma possibilidade
- Na obtenção do número de possibilidades aplica-se os princípios aditivo e multiplicativo

Permutações Simples

Definição

Dados n objetos distintos, a_1, a_2, \dots, a_n , uma **permutação simples** é uma ordenação desses elementos.

Permutações Simples

⇒ Definição

Dados n objetos distintos, a_1, a_2, \dots, a_n , uma **permutação simples** é uma ordenação desses elementos.

⇒ Ilustração

Dados os dígitos 3, 5, 7, 8 e 9,

87539 é uma **permutação simples** de 3, 5, 7, 8, 9.

Permutações Simples

Número de permutações simples:

⇒ Problema

{ Dados n elementos distintos, a_1, a_2, \dots, a_n ,
encontrar o **número** de permutações simples

Permutações Simples

Número de permutações simples:

⇒ Problema

{ Dados n elementos distintos, a_1, a_2, \dots, a_n ,
encontrar o **número** de permutações simples

⇒ Propriedade

O **número de permutações simples** de n elementos distintos, denominado P_n , é dado por:

$$P_n = n! = n(n-1) \dots 1$$

Permutações Simples

Exemplo 3:

Vários amigos combinaram passar o dia no clube. Planejaram ir para a piscina, fazer um churrasco e jogar volei. De quantas maneiras diferentes podem programar essas atividades?

Permutações Simples

Exemplo 3:

Vários amigos combinaram passar o dia no clube. Planejaram ir para a piscina, fazer um churrasco e jogar volei. De quantas maneiras diferentes podem programar essas atividades?

Resolução:

elementos: p (piscina) c (churrasco) v (volei)

Permutações Simples

Exemplo 3:

Vários amigos combinaram passar o dia no clube. Planejaram ir para a piscina, fazer um churrasco e jogar volei. De quantas maneiras diferentes podem programar essas atividades?

Resolução:

elementos: p (piscina) c (churrasco) v (volei)

número de programas possíveis: $P_3 = 3! = 6$

Resposta:

Eles podem programar as atividades planejadas de **6 maneiras diferentes**.

Permutações Simples

Exemplo 4:

Quantos números distintos de 5 algarismos podem se formar com os dígitos 0, 5, 7, 8 e 9 ?

Permutações Simples

Exemplo 4:

Quantos números distintos de 5 algarismos podem se formar com os dígitos 0, 5, 7, 8 e 9 ?

⇒ Lembremos que algarismo é cada um dos símbolos usados na representação de um número no sistema decimal de numeração.

Permutações Simples

Exemplo 4:

Quantos números distintos de 5 algarismos podem se formar com os dígitos 0, 5, 7, 8 e 9 ?

➔ Lembremos que algarismo é cada um dos símbolos usados na representação de um número no sistema decimal de numeração.

— Ilustração:

$$57809 \rightarrow 5 \cdot 10^4 + 7 \cdot 10^3 + 8 \cdot 10^2 + 0 \cdot 10^1 + 9 \cdot 10^0$$

Permutações Simples

Exemplo 4:

Quantos números distintos de 5 algarismos podem se formar com os dígitos 0, 5, 7, 8 e 9 ?

➔ Lembremos que algarismo é cada um dos símbolos usados na representação de um número no sistema decimal de numeração.

— Ilustração:

$$57809 \rightarrow 5 \cdot 10^4 + 7 \cdot 10^3 + 8 \cdot 10^2 + 0 \cdot 10^1 + 9 \cdot 10^0$$

05789 é uma ordenação de 5 dígitos que **não** corresponde à representação no sistema decimal

Permutações Simples

Exemplo 4:

Quantos números distintos de 5 algarismos podem se formar com os dígitos 0, 5, 7, 8 e 9 ?

➔ Lembremos que algarismo é cada um dos símbolos usados na representação de um número no sistema decimal de numeração.

— Ilustração:

$$57809 \rightarrow 5 \cdot 10^4 + 7 \cdot 10^3 + 8 \cdot 10^2 + 0 \cdot 10^1 + 9 \cdot 10^0$$

05789 é uma ordenação de 5 dígitos que **não** corresponde à representação no sistema decimal

5789 corresponde à representação no sistema decimal

Permutações Simples

Exemplo 4:

Quantos números distintos de 5 algarismos podem se formar com os dígitos 0, 5, 7, 8 e 9 ?

⇒ Lembremos que algarismo é cada um dos símbolos usados na representação de um número no sistema decimal de numeração.

— Ilustração:

$$57809 \rightarrow 5 \cdot 10^4 + 7 \cdot 10^3 + 8 \cdot 10^2 + 0 \cdot 10^1 + 9 \cdot 10^0$$

05789 é uma ordenação de 5 dígitos que **não** corresponde à representação no sistema decimal

5789 corresponde à representação no sistema decimal

⇒ Conclusão:

Os números de 5 algarismos não iniciam com 0.

Permutações Simples

Exemplo 4 (resolução):

Raciocínio 1:

dígitos do problema: 0, 5, 7, 8, 9

Permutações Simples

Exemplo 4 (resolução):

Raciocínio 1:

dígitos do problema: 0, 5, 7, 8, 9

Possibilidades

$$\frac{4 \times \overbrace{P_4}^{\text{posições dos dígitos no número}}}{\cancel{8}} = 4 \cdot 4! = 96$$

posições dos dígitos no número

Permutações Simples

Exemplo 4 (resolução):

Raciocínio 1:

dígitos do problema: 0, 5, 7, 8, 9

Possibilidades $\frac{4 \times \overbrace{P_4}^{\text{posições dos dígitos no número}}}{\cancel{8}} = 4 \cdot 4! = 96$

- Na primeira posição temos 4 possibilidades (excluimos o 0)
- Nas posições restantes temos 4 posições para 4 dígitos incluindo o 0, ou seja, P_4 possibilidades

Permutações Simples

Exemplo 4 (resolução):

Raciocínio 1:

dígitos do problema: 0, 5, 7, 8, 9

Possibilidades $\frac{4 \times \overbrace{P_4}^{\text{posições dos dígitos no número}}}{\cancel{5}} = 4 \cdot 4! = 96$

- Na primeira posição temos 4 possibilidades (excluimos o 0)
- Nas posições restantes temos 4 posições para 4 dígitos incluindo o 0, ou seja, P_4 possibilidades

Resposta: Podem se formar **96 números diferentes** de 5 algarismos com 0, 5, 7, 8 e 9.

Permutações Simples

Exemplo 4 (raciocínio 2):

Usamos o conceito de complemento.

Permutações Simples

Exemplo 4 (raciocínio 2):

Usamos o conceito de complemento.

U: conjunto universo := conjunto das ordenações de 5 dígitos formados com 0, 5, 7, 8 e 9 sem repetição ($05798 \in U$)

Permutações Simples

Exemplo 4 (raciocínio 2):

Usamos o conceito de complemento.

U: conjunto universo := conjunto das ordenações de 5 dígitos formados com 0, 5, 7, 8 e 9 sem repetição ($05798 \in U$)

A := conjunto dos números de 5 algarismos formados com 0, 5, 7, 8 e 9 = conjunto dos elementos de U que não iniciam com 0.

Permutações Simples

Exemplo 4 (raciocínio 2):

Usamos o conceito de complemento.

U: conjunto universo := conjunto das ordenações de 5 dígitos formados com 0, 5, 7, 8 e 9 sem repetição ($05798 \in U$)

A := conjunto dos números de 5 algarismos formados com 0, 5, 7, 8 e 9 = conjunto dos elementos de U que não iniciam com 0.

B := conjunto dos elementos de U que iniciam com 0.

Permutações Simples

Exemplo 4 (raciocínio 2):

Usamos o conceito de complemento.

U: conjunto universo := conjunto das ordenações de 5 dígitos formados com 0, 5, 7, 8 e 9 sem repetição ($05798 \in U$)

A := conjunto dos números de 5 algarismos formados com 0, 5, 7, 8 e 9 = conjunto dos elementos de U que não iniciam com 0.

B := conjunto dos elementos de U que iniciam com 0.

$$\left\{ \begin{array}{l} A = U - B \\ \text{número de possibilidades} = |A| = |U| - |B| \end{array} \right.$$

Permutações Simples

Exemplo 4 (raciocínio 2):

Usamos o conceito de complemento.

U: conjunto universo := conjunto das ordenações de 5 dígitos formados com 0, 5, 7, 8 e 9 sem repetição ($05798 \in U$)

A := conjunto dos números de 5 algarismos formados com 0, 5, 7, 8 e 9 = conjunto dos elementos de U que não iniciam com 0.

B := conjunto dos elementos de U que iniciam com 0.

$$\left\{ \begin{array}{l} A = U - B \\ \text{número de possibilidades} = |A| = |U| - |B| \end{array} \right.$$

$$\left\{ \begin{array}{l} |U| = P_5, \quad |B| = P_4 \\ \text{número de possibilidades} = P_5 - P_4 = 5! - 4! = 96 \end{array} \right.$$

Permutações Simples

Exemplo 4 (raciocínio 2):

Usamos o conceito de complemento.

U: conjunto universo := conjunto das ordenações de 5 dígitos formados com 0, 5, 7, 8 e 9 sem repetição ($05798 \in U$)

A := conjunto dos números de 5 algarismos formados com 0, 5, 7, 8 e 9 = conjunto dos elementos de U que não iniciam com 0.

B := conjunto dos elementos de U que iniciam com 0.

$$\left\{ \begin{array}{l} A = U - B \\ \text{número de possibilidades} = |A| = |U| - |B| \end{array} \right.$$

$$\left\{ \begin{array}{l} |U| = P_5, \quad |B| = P_4 \\ \text{número de possibilidades} = P_5 - P_4 = 5! - 4! = 96 \end{array} \right.$$

Observação: $5! - 4! = 5 \cdot 4! - 4! = (5 - 1) 4! = 4 \cdot 4!$

Permutações Simples

Exemplo 5:

Nove amigos assistem a um show, com lugares marcados consecutivos. As mulheres (quatro) se sentam todas juntas e os homens também. De quantas maneiras diferentes podem se sentar?

Permutações Simples

Exemplo 5:

Nove amigos assistem a um show, com lugares marcados consecutivos. As mulheres (quatro) se sentam todas juntas e os homens também. De quantas maneiras diferentes podem se sentar?

Resolução: mulheres $M_1, M_2, M_3 \cdot M_4$
homens $H_1, H_2, H_3 \cdot H_4, H_5$

Permutações Simples

Exemplo 5:

Nove amigos assistem a um show, com lugares marcados consecutivos. As mulheres (quatro) se sentam todas juntas e os homens também. De quantas maneiras diferentes podem se sentar?

Resolução: mulheres $M_1, M_2, M_3 \cdot M_4$
homens $H_1, H_2, H_3 \cdot H_4, H_5$

Algumas possibilidades: $M_1, M_2, M_3 \cdot M_4, H_1, H_2, H_3 \cdot H_4, H_5$

Permutações Simples

Exemplo 5:

Nove amigos assistem a um show, com lugares marcados consecutivos. As mulheres (quatro) se sentam todas juntas e os homens também. De quantas maneiras diferentes podem se sentar?

Resolução: mulheres $M_1, M_2, M_3 \cdot M_4$
homens $H_1, H_2, H_3 \cdot H_4, H_5$

Algumas possibilidades: $M_1, M_2, M_3 \cdot M_4, H_1, H_2, H_3 \cdot H_4, H_5$
 $H_1, H_2, H_3 \cdot H_4, H_5, M_1, M_2, M_3 \cdot M_4$

Permutações Simples

Exemplo 5:

Nove amigos assistem a um show, com lugares marcados consecutivos. As mulheres (quatro) se sentam todas juntas e os homens também. De quantas maneiras diferentes podem se sentar?

Resolução: mulheres $M_1, M_2, M_3 \cdot M_4$
homens $H_1, H_2, H_3 \cdot H_4, H_5$

Algumas possibilidades: $M_1, M_2, M_3 \cdot M_4, H_1, H_2, H_3 \cdot H_4, H_5$
 $H_1, H_2, H_3 \cdot H_4, H_5, M_1, M_2, M_3 \cdot M_4$

Número de possibilidades: $2P_4P_5 = 2 \cdot 4! \cdot 5! = 5760$

Permutações Simples

Exemplo 5:

Nove amigos assistem a um show, com lugares marcados consecutivos. As mulheres (quatro) se sentam todas juntas e os homens também. De quantas maneiras diferentes podem se sentar?

Resolução: mulheres $M_1, M_2, M_3 \cdot M_4$
homens $H_1, H_2, H_3 \cdot H_4, H_5$

Algumas possibilidades: $M_1, M_2, M_3 \cdot M_4, H_1, H_2, H_3 \cdot H_4, H_5$
 $H_1, H_2, H_3 \cdot H_4, H_5, M_1, M_2, M_3 \cdot M_4$

Número de possibilidades: $2P_4P_5 = 2 \cdot 4! \cdot 5! = 5760$

Resposta: Podem se sentar de **5760** maneiras diferentes.

Permutações Simples

Exemplo 6:

De quantos modos **4** rapazes e **4** moças podem se sentar em 4 bancos de 2 lugares cada um, de modo que em cada banco fiquem 1 rapaz e 1 moça?

Permutações Simples

Exemplo 6:

De quantos modos **4** rapazes e **4** moças podem se sentar em 4 bancos de 2 lugares cada um, de modo que em cada banco fiquem 1 rapaz e 1 moça?

Resolução:



Permutações Simples

Exemplo 6:

De quantos modos **4** rapazes e **4** moças podem se sentar em 4 bancos de 2 lugares cada um, de modo que em cada banco fiquem 1 rapaz e 1 moça?

Resolução:



1^a moça pode escolher seu lugar de **8 modos**

Permutações Simples

Exemplo 6:

De quantos modos **4** rapazes e **4** moças podem se sentar em 4 bancos de 2 lugares cada um, de modo que em cada banco fiquem 1 rapaz e 1 moça?

Resolução:



1^a moça pode escolher seu lugar de **8 modos**

2^a moça pode escolher seu lugar de **6 modos**

Permutações Simples

Exemplo 6:

De quantos modos **4** rapazes e **4** moças podem se sentar em 4 bancos de 2 lugares cada um, de modo que em cada banco fiquem 1 rapaz e 1 moça?

Resolução:



1^a moça pode escolher seu lugar de **8 modos**

2^a moça pode escolher seu lugar de **6 modos**

3^a moça pode escolher seu lugar de **4 modos**

Permutações Simples

Exemplo 6:

De quantos modos **4** rapazes e **4** moças podem se sentar em 4 bancos de 2 lugares cada um, de modo que em cada banco fiquem 1 rapaz e 1 moça?

Resolução:



1^a moça pode escolher seu lugar de **8 modos**

2^a moça pode escolher seu lugar de **6 modos**

3^a moça pode escolher seu lugar de **4 modos**

4^a moça pode escolher seu lugar de **2 modos**

Permutações Simples

Exemplo 6 (continuação):

Considere **uma** colocação das moças.



Permutações Simples

Exemplo 6 (continuação):

Considere **uma** colocação das moças.



Para cada colocação das moças, os moços sentam de P_4 maneiras diferentes nos 4 lugares restantes.

Permutações Simples

Exemplo 6 (continuação):

Considere **uma** colocação das moças.



Para cada colocação das moças, os moços sentam de P_4 maneiras diferentes nos 4 lugares restantes.

Número total de possibilidades: $8 \cdot 6 \cdot 4 \cdot 2 \cdot 4! = 9216$

Permutações Simples

Exemplo 6 (continuação):

Considere **uma** colocação das moças.



Para cada colocação das moças, os moços sentam de P_4 maneiras diferentes nos 4 lugares restantes.

Número total de possibilidades: $8 \cdot 6 \cdot 4 \cdot 2 \cdot 4! = 9216$

Resposta: Podem se sentar de **9216** maneiras diferentes.

Permutações Simples

Exemplo 6 (continuação):

Considere **uma** colocação das moças.



Para cada colocação das moças, os moços sentam de P_4 maneiras diferentes nos 4 lugares restantes.

Número total de possibilidades: $8 \cdot 6 \cdot 4 \cdot 2 \cdot 4! = 9216$

Resposta: Podem se sentar de **9216** maneiras diferentes.

⇒ Observação: A resposta não muda se analisarmos primeiro os rapazes ($8 \cdot 6 \cdot 4 \cdot 2$ modos) e depois as moças ($4!$)

Permutações Simples

Exemplo 7:

Quantos anagramas podem ser formados com a palavra VIRUS?

Permutações Simples

Exemplo 7:

Quantos anagramas podem ser formados com a palavra VIRUS?

Resolução:

- 1 anagrama de VIRUS: 1 transposição das letras de VIRUS (**permutação** das letras de VIRUS)

Permutações Simples

Exemplo 7:

Quantos anagramas podem ser formados com a palavra VIRUS?

Resolução:

- 1 anagrama de VIRUS: 1 transposição das letras de VIRUS (**permutação** das letras de VIRUS)
- VIRUS tem letras distintas

Permutações Simples

Exemplo 7:

Quantos anagramas podem ser formados com a palavra VIRUS?

Resolução:

- 1 anagrama de VIRUS: 1 transposição das letras de VIRUS (**permutação** das letras de VIRUS)
- VIRUS tem letras distintas
- **n**: número de letras da palavra VIRUS = **5**

Permutações Simples

Exemplo 7:

Quantos anagramas podem ser formados com a palavra VIRUS?

Resolução:

- 1 anagrama de VIRUS: 1 transposição das letras de VIRUS (**permutação** das letras de VIRUS)
- VIRUS tem letras distintas
- **n**: número de letras da palavra VIRUS = **5**

Resposta:

A partir da palavra VIRUS podem ser formados $P_5 = 5! =$ **120 anagramas**.

Permutações Simples

Exemplo 8:

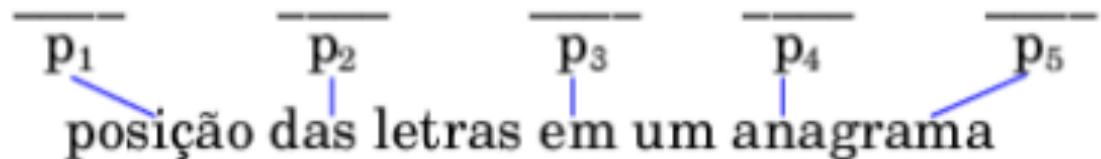
Quantos anagramas da palavra VIRUS começam e terminam em consoante?

Permutações Simples

Exemplo 8:

Quantos anagramas da palavra VIRUS começam e terminam em consoante?

Resolução:

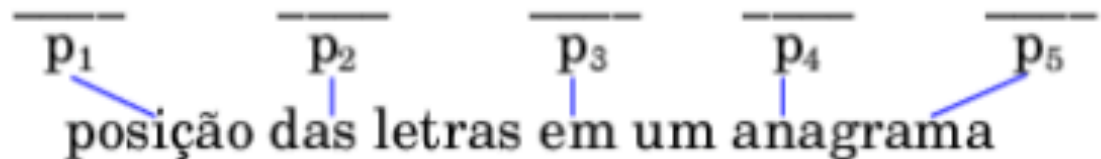


Permutações Simples

Exemplo 8:

Quantos anagramas da palavra VIRUS começam e terminam em consoante?

Resolução:



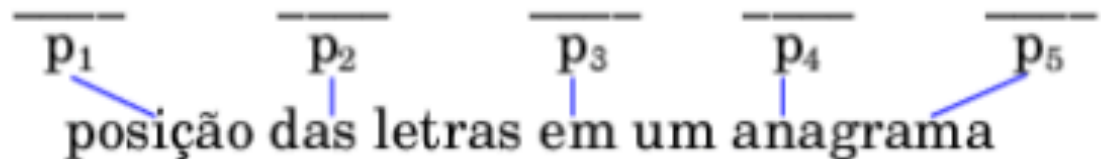
consoantes de VIRUS: V, R, S

Permutações Simples

Exemplo 8:

Quantos anagramas da palavra VIRUS começam e terminam em consoante?

Resolução:



consoantes de VIRUS: V, R, S

Ordem da análise das possibilidades:

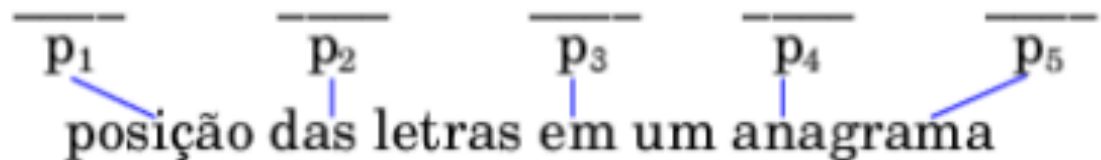
1^ª) possibilidades para a posição p_1

Permutações Simples

Exemplo 8:

Quantos anagramas da palavra VIRUS começam e terminam em consoante?

Resolução:



consoantes de VIRUS: V, R, S

Ordem da análise das possibilidades:

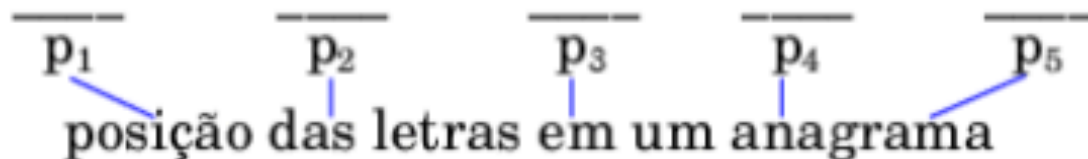
- 1ª) possibilidades para a posição p_1
- 2ª) possibilidades para a posição p_5

Permutações Simples

Exemplo 8:

Quantos anagramas da palavra VIRUS começam e terminam em consoante?

Resolução:



consoantes de VIRUS: V, R, S

Ordem da análise das possibilidades:

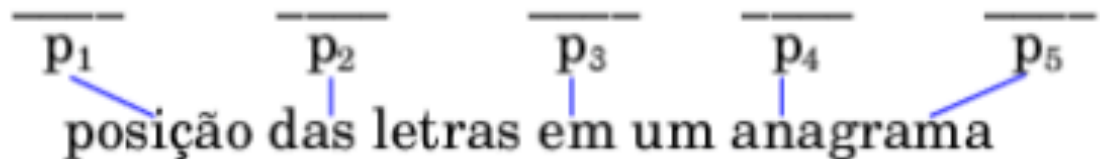
- 1^ª) possibilidades para a posição p_1
- 2^ª) possibilidades para a posição p_5
- 3^ª) possibilidades para as posições p_2, p_3, p_4

Permutações Simples

Exemplo 8:

Quantos anagramas da palavra VIRUS começam e terminam em consoante?

Resolução:



consoantes de VIRUS: V, R, S

Ordem da análise das possibilidades:

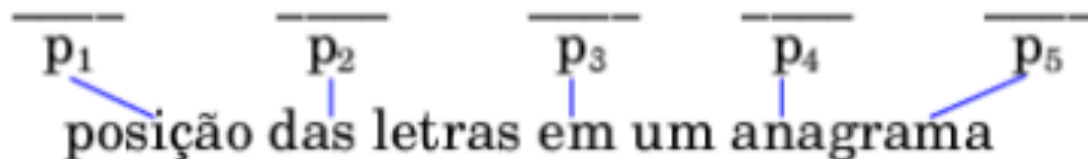
- 1^ª) possibilidades para a posição $p_1 = 3$
- 2^ª) possibilidades para a posição p_5
- 3^ª) possibilidades para as posições p_2, p_3, p_4

Permutações Simples

Exemplo 8:

Quantos anagramas da palavra VIRUS começam e terminam em consoante?

Resolução:



consoantes de VIRUS: V, R, S

Ordem da análise das possibilidades:

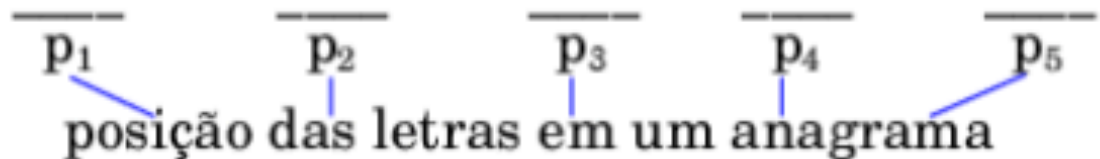
- 1^a) possibilidades para a posição $p_1 = 3$
- 2^a) possibilidades para a posição $p_5 = 2$
- 3^a) possibilidades para as posições p_2, p_3, p_4

Permutações Simples

Exemplo 8:

Quantos anagramas da palavra VIRUS começam e terminam em consoante?

Resolução:



consoantes de VIRUS: V, R, S

Ordem da análise das possibilidades:

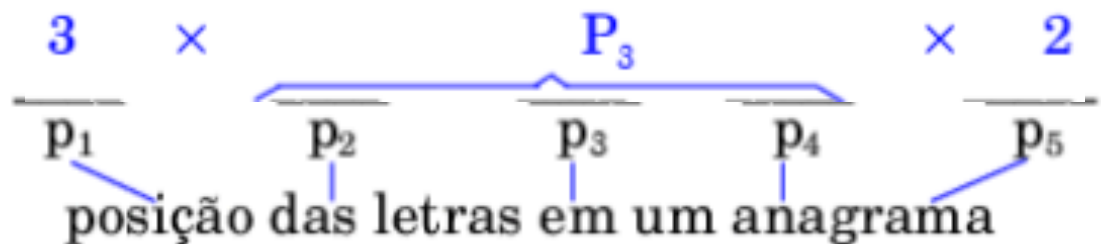
- 1^a) possibilidades para a posição $p_1 = 3$
- 2^a) possibilidades para a posição $p_5 = 2$
- 3^a) possibilidades para as posições $p_2, p_3, p_4 = P_3 = 3!$

Permutações Simples

Exemplo 8:

Quantos anagramas da palavra VIRUS começam e terminam em consoante?

Resolução:



consoantes de VIRUS: V, R, S

Ordem da análise das possibilidades:

- 1ª) possibilidades para a posição $p_1 = 3$
- 2ª) possibilidades para a posição $p_5 = 2$
- 3ª) possibilidades para as posições $p_2, p_3, p_4 = P_3 = 3!$

Permutações Simples

Exemplo 8 (continuação):

Resposta: da palavra VIRUS podem ser formados $3 \cdot 2 \cdot 3! = 36$ **anagramas** que começam e terminam em consoante.

Permutações Simples

Exemplo 9:

Ana, Luis e Fernando sentam-se juntos na aula de monitoria do curso de informática. De quantas maneiras diferentes podem se sentar, se:

- (1) as cadeiras estão numa mesma fila
- (2) as cadeiras formam um triângulo e estão numeradas.
- (3) as cadeiras formam um triângulo e o que interessa é a posição de cada pessoa em relação as outras duas.

Permutações Simples

Exemplo 9:

Ana, Luis e Fernando sentam-se juntos na aula de monitoria do curso de informática. De quantas maneiras diferentes podem se sentar, se:

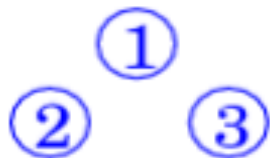
- (1) as cadeiras estão numa mesma fila ① ② ③
- (2) as cadeiras formam um triângulo e estão numeradas.
- (3) as cadeiras formam um triângulo e o que interessa é a posição de cada pessoa em relação as outras duas.

Permutações Simples

Exemplo 9:

Ana, Luis e Fernando sentam-se juntos na aula de monitoria do curso de informática. De quantas maneiras diferentes podem se sentar, se:

- (1) as cadeiras estão numa mesma fila ① ② ③
- (2) as cadeiras formam um triângulo e estão numeradas.



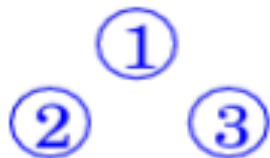
- (3) as cadeiras formam um triângulo e o que interessa é a posição de cada pessoa em relação as outras duas.

Permutações Simples

Exemplo 9:

Ana, Luis e Fernando sentam-se juntos na aula de monitoria do curso de informática. De quantas maneiras diferentes podem se sentar, se:

- (1) as cadeiras estão numa mesma fila ① ② ③
- (2) as cadeiras formam um triângulo e estão numeradas.



- (3) as cadeiras formam um triângulo e o que interessa é a posição de cada pessoa em relação as outras duas.

= Ilustração:



Permutações Simples

Exemplo 9 (primeira parte):

Ana, Luis e Fernando sentam-se juntos na aula de monitoria do curso de informática. De quantas maneiras diferentes podem-se sentar, se:

- (1) as cadeiras estão numa mesma fila ① ② ③

Permutações Simples

Exemplo 9 (primeira parte):

Ana, Luis e Fernando sentam-se juntos na aula de monitoria do curso de informática. De quantas maneiras diferentes podem-se sentar, se:

(1) as cadeiras estão numa mesma fila ① ② ③

Resolução:

Número de possibilidades: $P_3 = 3! = 6$

Resposta: Eles podem se sentar numa fila de
6 maneiras distintas


Permutações Simples

Exemplo 9 (segunda parte):

Ana, Luis e Fernando sentam-se juntos na aula de monitoria do curso de informática. De quantas maneiras diferentes podem se sentar, se:

(2) as cadeiras formam um triângulo e estão

numerados



The diagram shows three chairs arranged in a triangle. Chair 1 is at the top, chair 2 is at the bottom left, and chair 3 is at the bottom right. Each chair is represented by a blue circle containing a white number.

Permutações Simples

Exemplo 9 (segunda parte):

Ana, Luis e Fernando sentam-se juntos na aula de monitoria do curso de informática. De quantas maneiras diferentes podem se sentar, se:

(2) as cadeiras formam um triângulo e estão numerados



Resolução: Importa a cadeira em que estão sentados:

- Ilustração:



Permutações Simples

Exemplo 9 (segunda parte):

Ana, Luis e Fernando sentam-se juntos na aula de monitoria do curso de informática. De quantas maneiras diferentes podem se sentar, se:

(2) as cadeiras formam um triângulo e estão numerados



Resolução: Importa a cadeira em que estão sentados:

- Ilustração:



Resposta: Eles podem se sentar nos lugares numerados de **6 maneiras distintas**

Permutações Simples

Exemplo 9 (terceira parte):

Ana, Luis e fernando sentam-se juntos na aula de monitoria do curso de informática. De quantas maneiras diferentes podem se sentar, se:

- (3) as cadeiras formam um triângulo e o que interessa é a posição de cada pessoa em relação as outras duas

$$\begin{array}{c} A \\ F \quad L \end{array} \quad \begin{array}{c} L \\ A \quad F \end{array} \quad \begin{array}{c} F \\ L \quad A \end{array} \xrightarrow{\text{correspondem}} \text{uma possibilidade}$$

Permutações Simples

Exemplo 9 (terceira parte):

Ana, Luis e fernando sentam-se juntos na aula de monitoria do curso de informática. De quantas maneiras diferentes podem se sentar, se:

- (3) as cadeiras formam um triângulo e o que interessa é a posição de cada pessoa em relação as outras duas

$\begin{matrix} A \\ F & L \end{matrix}$ $\begin{matrix} L \\ A & F \end{matrix}$ $\begin{matrix} F \\ L & A \end{matrix}$ $\xrightarrow{\text{correspondem}}$ uma possibilidade

Permutações Simples

Exemplo 9 (terceira parte):

Ana, Luis e fernando sentam-se juntos na aula de monitoria do curso de informática. De quantas maneiras diferentes podem se sentar, se:

- (3) as cadeiras formam um triângulo e o que interessa é a posição de cada pessoa em relação as outras duas

$$\begin{array}{ccc} A & L & F \\ F & L & A \end{array} \quad \begin{array}{ccc} L & & \\ A & F & \\ L & A & \end{array} \xrightarrow{\text{correspondem}} \text{uma possibilidade}$$

Resolução:

3 permutações de A, L e F \longrightarrow 1 possibilidade

Permutações Simples

Exemplo 9 (terceira parte):

Ana, Luis e fernando sentam-se juntos na aula de monitoria do curso de informática. De quantas maneiras diferentes podem se sentar, se:

- (3) as cadeiras formam um triângulo e o que interessa é a posição de cada pessoa em relação as outras duas

$\begin{matrix} A & & L & & F \\ F & L & A & F & L & A \end{matrix}$ $\xrightarrow{\text{correspondem}}$ uma possibilidade

Resolução:

3 permutações de A, L e F \longrightarrow 1 possibilidade

P_3 permutações de A, L e F \longrightarrow $\frac{P_3}{3}$ possibilidades

Permutações Simples

Exemplo 9 (terceira parte):

Ana, Luis e fernando sentam-se juntos na aula de monitoria do curso de informática. De quantas maneiras diferentes podem se sentar, se:

- (3) as cadeiras formam um triângulo e o que interessa é a posição de cada pessoa em relação as outras duas

$\begin{matrix} A & & L & & F \\ F & L & A & F & L & A \end{matrix}$ correspondem \rightarrow uma possibilidade

Resolução:

3 permutações de A, L e F \longrightarrow 1 possibilidade

P_3 permutações de A, L e F \longrightarrow $\frac{P_3}{3}$ possibilidades

Resposta:

A quantidade de posições diferentes é $\frac{3!}{3} = \frac{3 \cdot 2!}{3} = 2$

Permutações Circulares

Permutação circular:

➔ Definição

Dados n objetos distintos, a_1, a_2, \dots, a_n , uma **permutação circular** é uma ordenação onde o que importa é a posição relativa dos objetos.

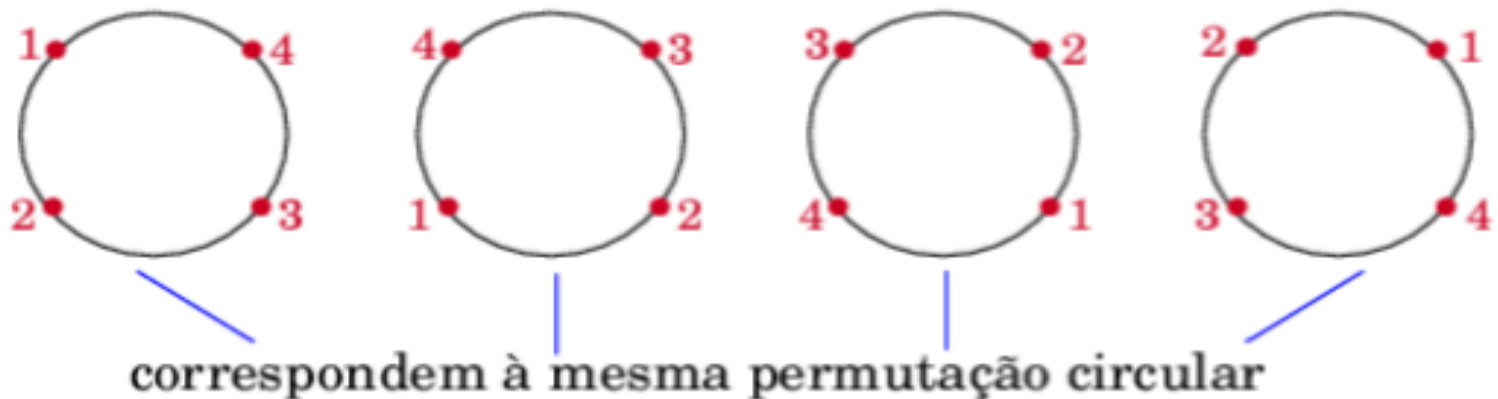
Permutações Circulares

Permutação circular:

➔ Definição

Dados n objetos distintos, a_1, a_2, \dots, a_n , uma **permutação circular** é uma ordenação onde o que importa é a posição relativa dos objetos.

➔ Ilustração



Permutações Circulares

Observação

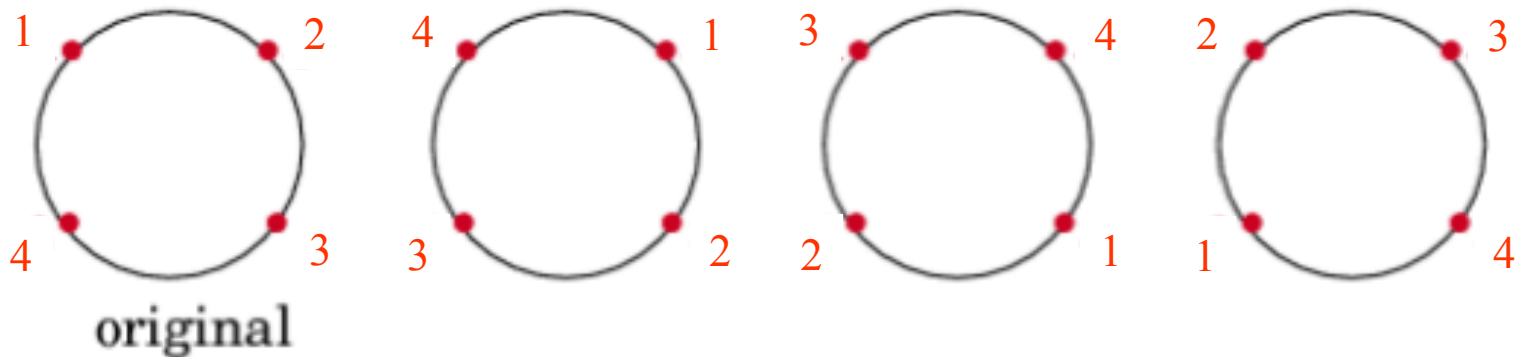
Duas permutações circulares são iguais quando uma pode ser obtida da outra por uma rotação.

Permutações Circulares

➔ Observação

Duas permutações circulares são iguais quando uma pode ser obtida da outra por uma rotação.

➔ Ilustração



Permutações Circulares

Número de permutações circulares:

➔ Problema

Dados n elementos distintos, a_1, a_2, \dots, a_n ,
encontrar o **número** de permutações circulares

Permutações Circulares

Número de permutações circulares:

➔ Problema

{ Dados n elementos distintos, a_1, a_2, \dots, a_n ,
encontrar o **número** de permutações circulares

➔ Propriedade

O **número de permutações circulares** de n objetos distintos, denominado $(PC)_n$, é dado por:

$$(PC)_n = \frac{P_n}{n} = \frac{n!}{n} = (n - 1)!$$

Permutações Circulares

Número de permutações circulares:

➔ Problema

{ Dados n elementos distintos, a_1, a_2, \dots, a_n ,
encontrar o **número** de permutações circulares

➔ Propriedade

O **número de permutações circulares** de n objetos distintos, denominado $(PC)_n$, é dado por:

$$(PC)_n = \frac{P_n}{n} = \frac{n!}{n} = (n - 1)!$$

➔ Ilustração

$$(PC)_3 = \frac{3!}{3} = 2! = 2$$

Permutações Circulares

Exemplo 10:

Quantas rodas de ciranda podem ser formadas com 5 crianças?

Permutações Circulares

Exemplo 10:

Quantas rodas de ciranda podem ser formadas com 5 crianças?

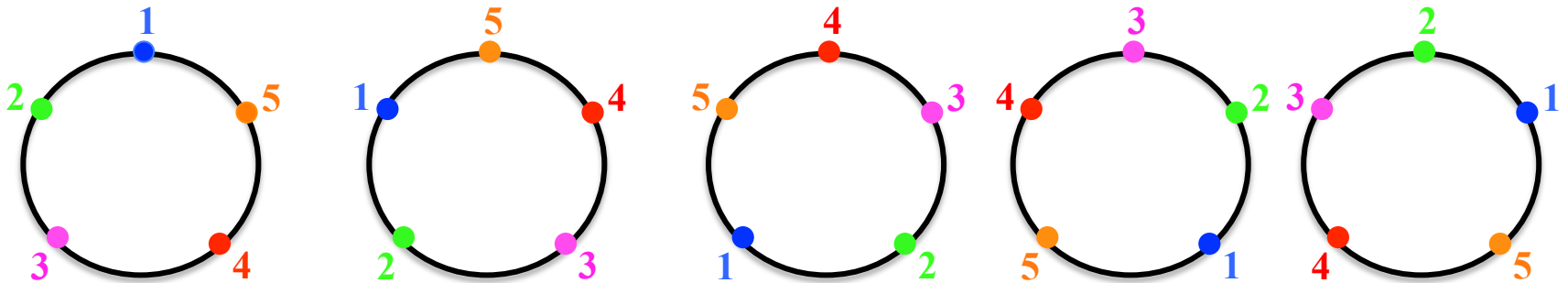
crianças: 1, 2, 3, 4, 5

Permutações Circulares

Exemplo 10:

Quantas rodas de ciranda podem ser formadas com 5 crianças?

crianças: 1 2 3 4 5

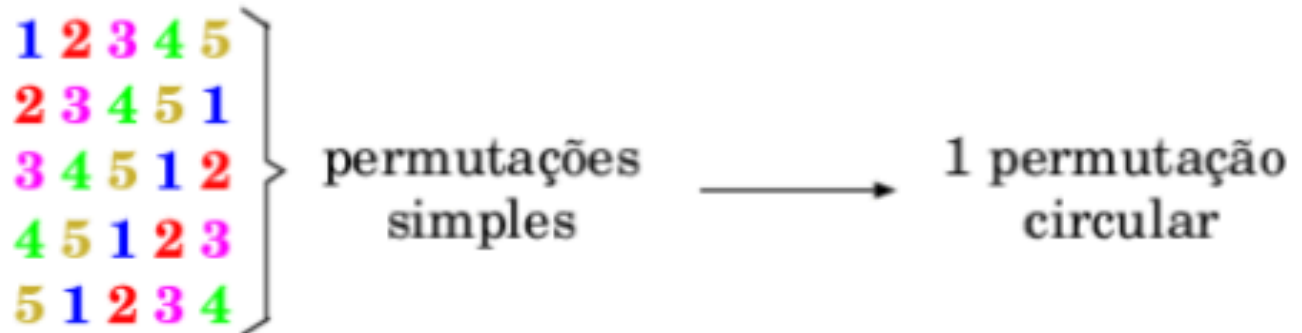


1 2 3 4 5

Permutações Circulares

Exemplo 10 (continuação):

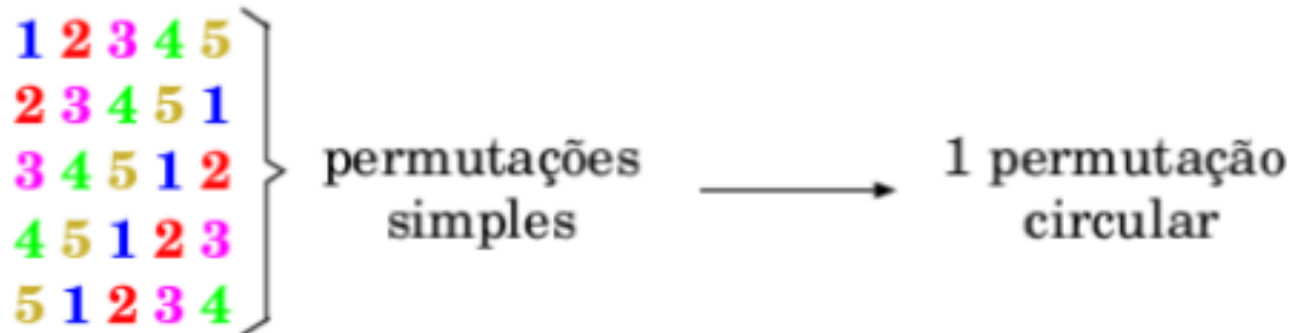
Resolução:



Permutações Circulares

Exemplo 10 (continuação):

Resolução:



5 permutações simples \longrightarrow 1 permutação circular

Permutações Circulares

Exemplo 10 (continuação):

Resolução:



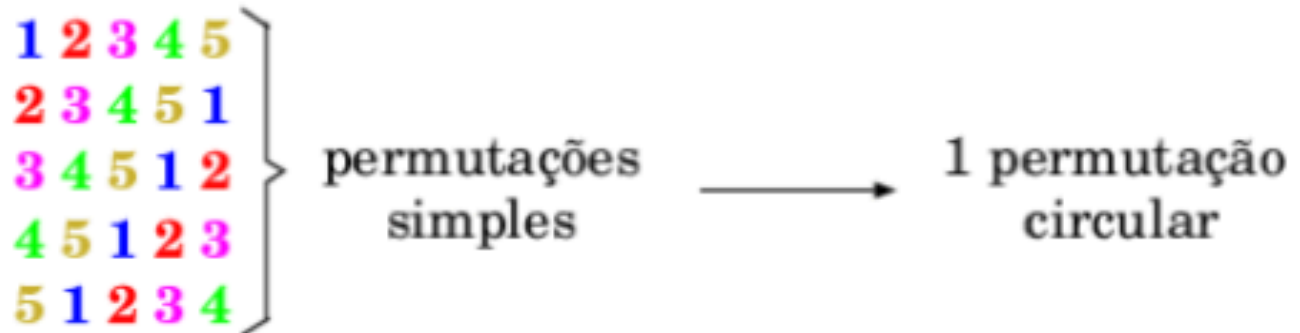
5 permutações simples \longrightarrow 1 permutação circular

total de permutações, $P_5 \longrightarrow \frac{P_5}{5} = (PC)_5$

Permutações Circulares

Exemplo 10 (continuação):

Resolução:



5 permutações simples \longrightarrow 1 permutação circular

total de permutações, $P_5 \longrightarrow \frac{P_5}{5} = (PC)_5$

$$\frac{P_5}{5} = \frac{5!}{5} = 4! = 4 \cdot 3 \cdot 2 \cdot 1 = 24$$

Permutações Circulares

Exemplo 10 (continuação):

Resolução:



5 permutações simples \longrightarrow 1 permutação circular

total de permutações, $P_5 \longrightarrow \frac{P_5}{5} = (PC)_5$

$$\frac{P_5}{5} = \frac{5!}{5} = 4! = 4 \cdot 3 \cdot 2 \cdot 1 = 24$$

Resposta:

Podem ser formadas **24 rodas** diferentes de ciranda

Permutações Circulares

Exemplo 11:

De quantas maneiras é possível formar uma roda de ciranda com 6 crianças, c_1 , c_2 , c_3 , c_4 , c_5 e c_6 de modo que c_1 e c_2 não fiquem juntas?

Permutações Circulares

Exemplo 11:

De quantas maneiras é possível formar uma roda de ciranda com 6 crianças, c_1 , c_2 , c_3 , c_4 , c_5 e c_6 de modo que c_1 e c_2 não fiquem juntas?

Resolução:

Primeira etapa

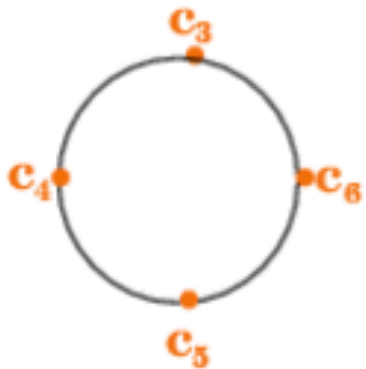
Considere c_3 , c_4 , c_5 , c_6 . Podem se formar

$$(PC)_4 = (4 - 1)! = 3! = 6$$

Permutações Circulares

Exemplo 11 (segunda etapa):

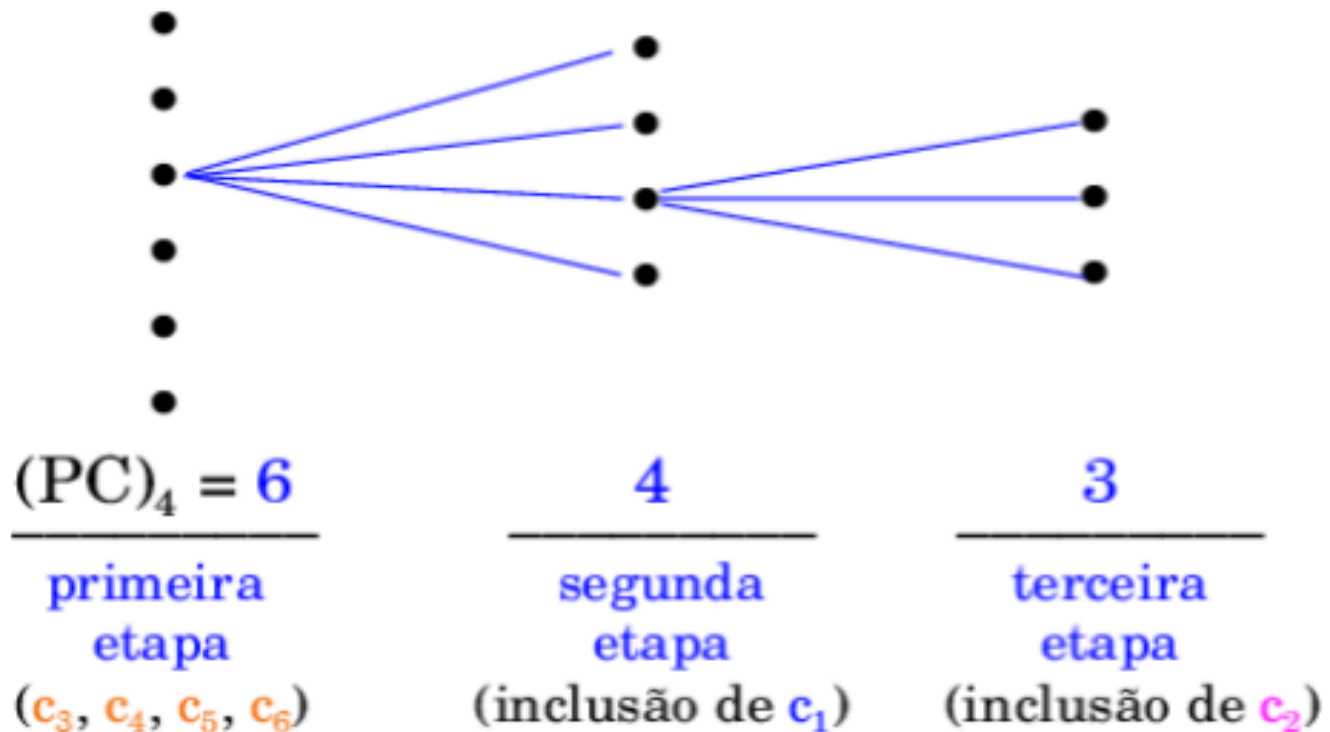
Para cada roda formada por c_3, c_4, c_5, c_6 tem-se 4 maneiras de se colocar c_1



1 roda

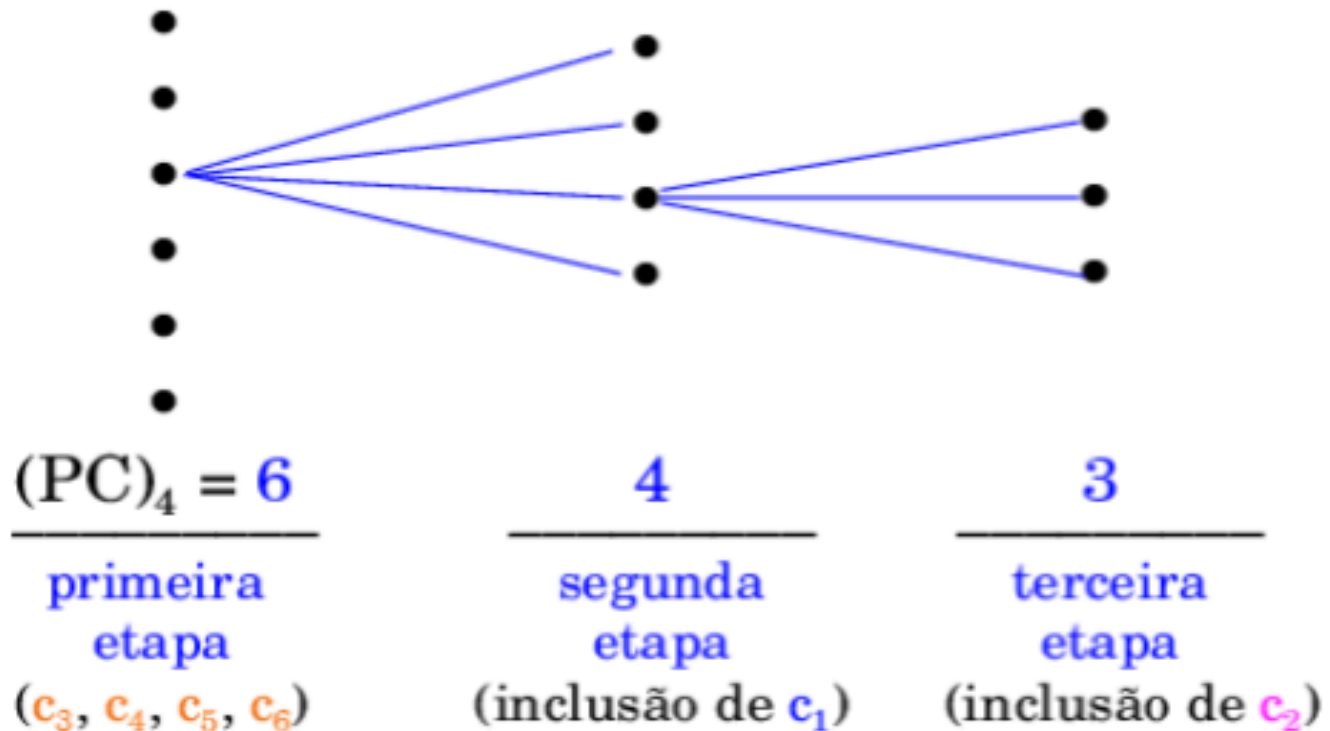
Permutações Circulares

Exemplo 11 (análise final):



Permutações Circulares

Exemplo 11 (análise final):



Resposta:

Podem ser formadas $6 \cdot 4 \cdot 3 = 72$ rodas diferentes de modo que c_1 e c_2 não fiquem juntas.